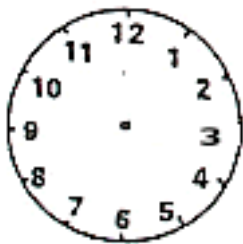


a.s. _____

Nome Cognome _____ Classe _____

L'OROLOGIO (7)

1) Disegna le lancette e scrivi l'ora.



sono le 2

fra 3 ore ----->

fra 3 ore -----

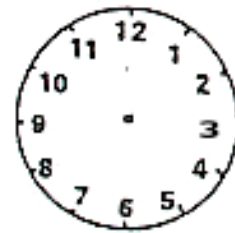


saranno le.....



sono le 10

fra 6 ore ----->



saranno le.....

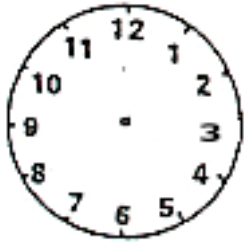


sono le 20

fra 8 ore ----->



saranno le.....



erano le.....

4 ore fa <-----



sono le 9

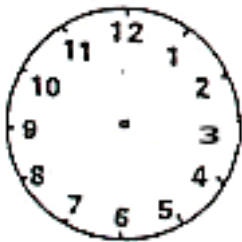


erano le.....

8 ore fa <-----



sono le 15



erano le.....

5 ore fa <-----



sono le 3