

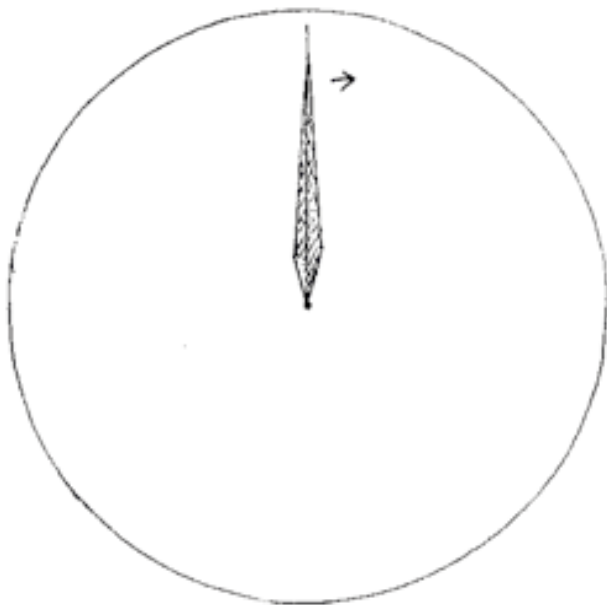
CLASSE IV – PROVA DI VERIFICA FINALE

Cognome e nome _____

Verifica 9

La lancetta dei minuti di un orologio ruota di 180° : disegna la posizione finale della lancetta.

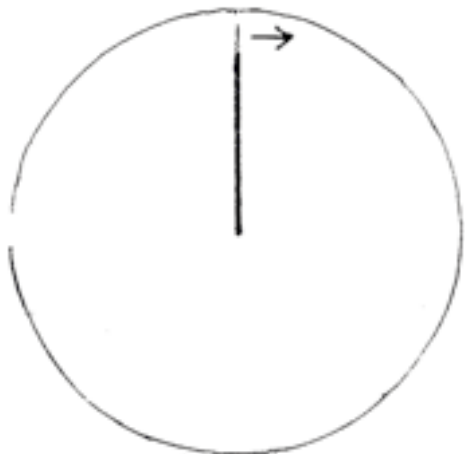
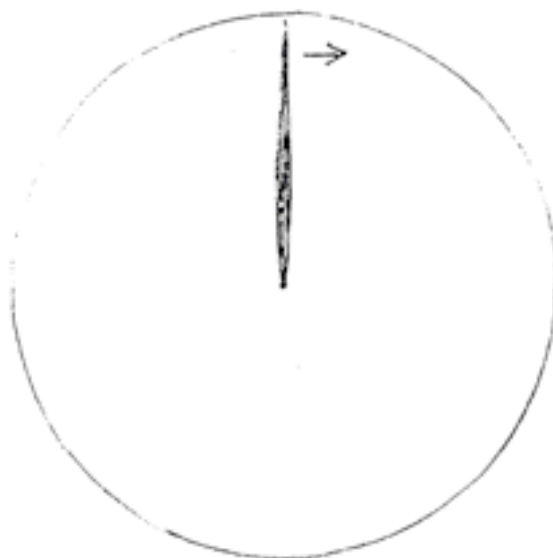
Quanto tempo è passato durante la rotazione ?



La lancetta dei minuti ruota di 270° :

disegna la posizione finale della lancetta.

Quanto tempo è passato durante la rotazione?



La lancetta dei minuti ruota di 120° :

disegna la posizione finale della lancetta.

Quanto tempo è passato durante la rotazione?