

COGNOME E NOME _____

Scrivi il numero che manca.

$7 + 2 = \underline{\hspace{2cm}}$

$19 + 5 = \underline{\hspace{2cm}}$

$3 + 2 + 4 = \underline{\hspace{2cm}}$

$6 + 4 + 5 = \underline{\hspace{2cm}}$

$15 + 3 + 4 = \underline{\hspace{2cm}}$

$9 = 3 + \underline{\hspace{1cm}}$

$8 = \underline{\hspace{1cm}} + 3$

$19 = 15 + \underline{\hspace{1cm}}$

$18 = \underline{\hspace{1cm}} + 6$

COGNOME E NOME _____

La mamma di Pierino compra ogni domenica un giornale illustrato che costa 90 eurocent.

Quanto ha speso nel mese di dicembre scorso per questi giornali?

Luca ha 2 Euro. Vorrebbe comprare una matita che costa 40 eurocent e un album da disegno che costa 90 eurocent.

Gli bastano i soldi che ha?

(spiega il ragionamento che hai fatto)

COGNOME E NOME _____

Leggi attentamente il seguente brano di Fenoglio:

“Mio padre mi lascia passare la giornata alla baracca dell’imbarco, perché così mi svago e imparo un mestiere senza accorgermene. Adesso c’è una padrona grassa, che grida sempre, e se faccio tanto di toccare una barca, mi vede, fosse anche dalla cantina, e grida che non è roba mia.”

Ora rispondi:

- 1) Quante e quali sono le persone di cui si parla nel brano?

- 2) Che cosa fa la padrona se il ragazzo si appoggia ad una delle barche?

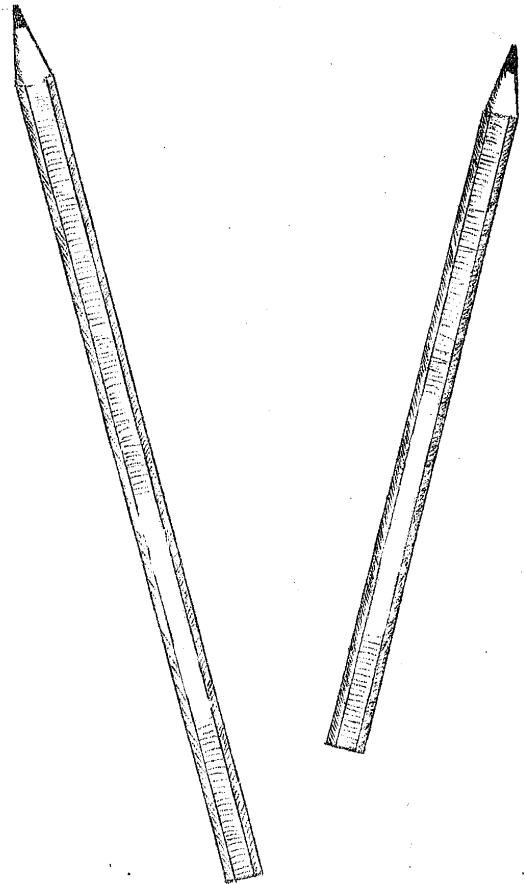
COGNOME E NOME _____

Su questo foglio sono disegnate le matite di Gianni e di Luca.

La matita di Luca è quella più corta.

Scrivi su ognuna delle due matite il nome del proprietario.

Ora prendi il tuo righello, misura la lunghezza delle due matite e completa le frasi seguenti:



LA MATITA DI GIANNI E' LUNGA

LA MATITA DI LUCA E' LUNGA

COGNOME E NOME _____

SCRIVI IL NUMERO CHE MANCA:

$2 + \underline{\quad\quad} = 5$

$6 + \underline{\quad\quad} = 11$

$14 + \underline{\quad\quad} = 18$

$\underline{\quad\quad} + 3 = 21$

$15 = 5 + \underline{\quad\quad}$

$13 = 6 + \underline{\quad\quad}$

$15 = 3 + \underline{\quad\quad}$

$13 = \underline{\quad\quad} + 4$

Indica TRE modi DIVERSI di comporre il numero 7


$7 = \underline{\quad\quad} + \underline{\quad\quad}$

$7 = \underline{\quad\quad} + \underline{\quad\quad}$

$7 = \underline{\quad\quad} + \underline{\quad\quad}$


COGNOME E NOME _____

1) Quanto è lunga la foglia disegnata qui sotto?



2) Di fianco al portone della casa di Marco c'è un'auto blu parcheggiata; dal portone della casa stanno uscendo la mamma di Marco con il fratellino di Marco tenuto per mano. Sul marciapiede c'è un vigile che sta facendo la multa all'auto blu parcheggiata. Sulla strada sta arrivando il papà di Marco con un'auto rossa.

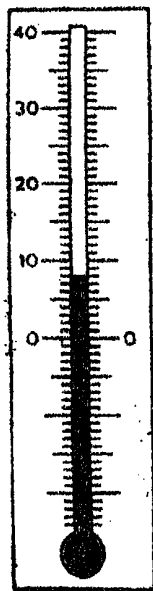
COMPLETA IL DISEGNO!



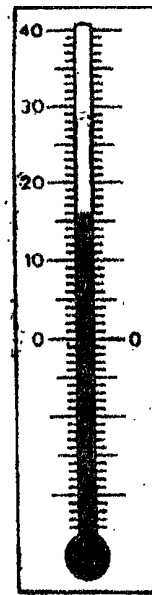
COGNOME E NOME _____

1) I termometri disegnati sotto rappresentano le temperature registrate alle ore 9 e alle ore 14 del 29 marzo.

DI QUANTO E' AUMENTATA LA TEMPERATURA TRA LE 9 E LE 14?



ore 9



ore 14

2) Leggi attentamente la poesia.

Ora guarda!

Fra splendenti grappoli di fiori
farfalle gialle
si inseguono giocando;
e fra i fagioli fioriti
farfalle azzurre
si inseguono giocando.

(canto indiano Hopi)

DISEGNA QUELLO CHE TI FA PENSARE QUESTA POESIA.

COGNOME E NOME _____

1) Quante biro da 60 eurocent posso comperare con 2 Euro? Con quale resto?

2) Elisa parte per le vacanze il 22 giugno mattina e ritorna il 6 agosto sera. Quanti giorni resta lontana da casa?