

periodo: aprile/maggio

CLASSE I - scheda N.7 - COGNOME E NOME _____

Voglio comprare una gomma che costa 300 lire. Quali monete posso usare ? (Disegna almeno tre modi diversi di pagare)

CLASSE I - scheda N.8 - NOME E COGNOME _____

Ho queste monete :



voglio comperare un cioccolatino che costa 100 lire. Con quali monete posso comprarlo?

Disegnale. (TROVA DUE MODI DIVERSI DI PAGARE)

Voglio comprare un pennarello che costa 600 lire. Quali monete posso usare ? (Disegna almeno tre modi diversi di pagare)

CLASSE I - scheda N.9-NOME E COGNOME

Ho queste monete:



Voglio comperare una merendina che costa 200 lire.

Con quali monete posso comprarla ?

Disegnale .

(TROVA TRE MODI DIVERSI DI PAGARE)

CLASSE I - scheda N.10-COGNOME E NOME

Ho queste monete:



Voglio comprare un album che costa 500 lire .Con quali ^{mi} posso comprarlo ? (DISEGNA TRE MODI DIVERSI DI PAGARLO)


Voglio comprare una matita che costa 400 lire. Quali monete posso usare ? (DISEGNA TRE MODI DIVERSI DI PAGARE)

CLASSE I - scheda N.11 - COGNOME E NOME _____

Pierino compra una gomma che costa 300 lire e un



temperamatite che costa 200 lire :

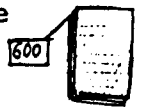


Quanto spende in tutto ?

Disegna almeno due modi diversi di pagare !

CLASSE I - scheda N.12-~~V~~- COGNOME E NOME _____

Gianna compra un quaderno che costa 600 lire



e una gomma che costa 200 lire



Quanto spende in tutto ?

Disegna almeno due modi diversi di pagare !

CLASSE I - scheda N.13 - COGNOME E NOME _____

Lucia vuole comperare un quaderno che costa 600 lire;

ha solo questi soldi :




quanto le manca per pagare il quaderno ?

CLASSE I - scheda N.14-V-COGNOME E NOME _____

Piera vuole comprare un pennarello che costa 700 li:

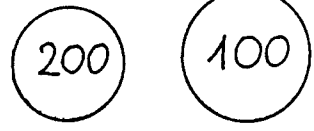
ha solo questi soldi :



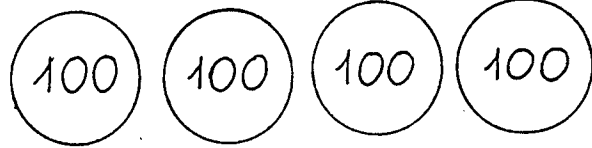
disegna i soldi che le mancano per pagare il pennarello

Andrea paga con una moneta da 500 lire una gomma che
costa 300 lire .Quanto riceve di resto ?

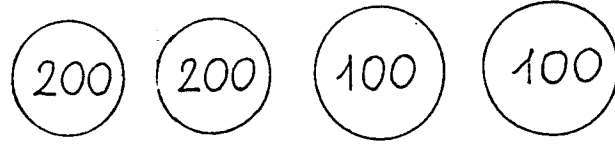
Quante lire hai? Scrivilo nel cartellino



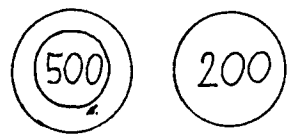
L.



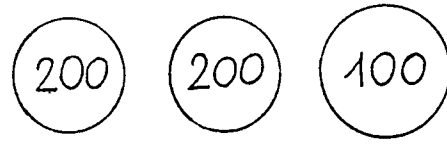
L.



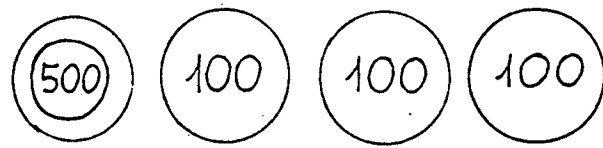
L.



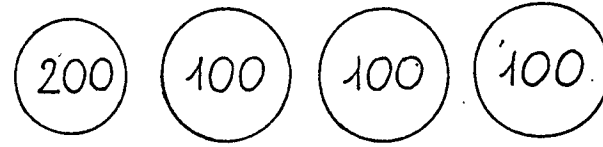
L.



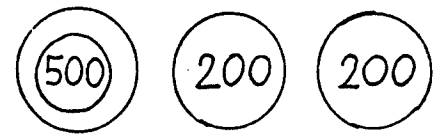
L.



L.



L.



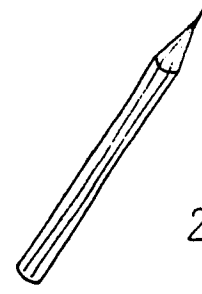
11-

L.


Colora le monete con cui paghi:




L. 300
3 cento



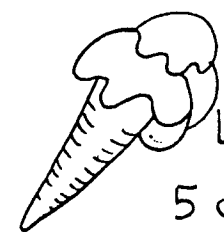

L. 200
2 cento




L. 500
5 cento



L. 600
6 cento



L. 500
5 cento



12-