

# SCHEDE DI LAVORO E DI VERIFICA

**Periodo: ottobre/dicembre**

CLASSE I - VERIFICA QUADRIMESTRALE - A - COGNOME E NOME \_\_\_\_\_  
(leggere ai bambini)

CLASSE I - <sup>Verifica quadrimestrale - B</sup> (leggere ai bambini) - COGNOME E NOME \_\_\_\_\_

Quanto valgono tutte insieme queste monete? Fai la conta.

..... lire

.....cento lire

..... lire

.....cento lire

..... lire

.....cento lire

Colora le monete che usi per pagare

L. 300

matita

palloncino

L. 400

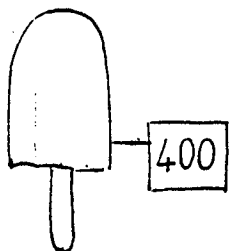
cioccolato

L. 200


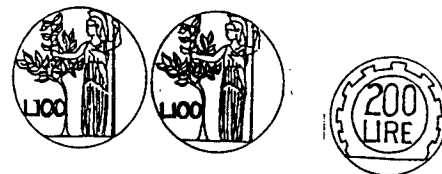
uovo

CIOCOLATO L. 500

Leggi il prezzo e disegna le monete per pagare

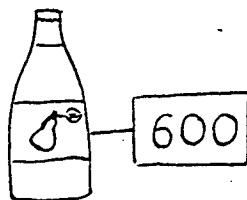


Hai queste monete:



Vuoi comprare un dolce che costa 300 lire.

Disegna come puoi pagare con le monete che hai.



CLASSE I - scheda N.2-V-COGNOME E NOME \_\_\_\_\_

Hai queste monete:



Vuoi comprare un quaderno che costa 400 lire.

Disegna come puoi pagare con le monete che hai.