

COGNOME E NOME _____

Hai queste monete:



Vuoi comprare un dolce che costa 40 eurocent.
Disegna come puoi pagare con le monete che
hai.

COGNOME E NOME _____

Hai queste monete:



Vuoi comprare un dolce che costa 50 eurocent.

Disegna come puoi pagare con le monete che hai.

SCHEDA 3

COGNOME E NOME _____

1) Scrivi i giorni che mancano sulla linea del tempo:

10	11	12		14	15		17	18	19	20
----	----	----	--	----	----	--	----	----	----	----

2) Scrivi i giorni che mancano sulla linea del tempo:

1	2	3			6	7			10
---	---	---	--	--	---	---	--	--	----

3) Che giorni della settimana sono il 12 e il 15?

LU	MA	ME	GIO		SA	DO		MA	ME	GIO
8	9	10	11	12	13	14	15	16	17	18

COGNOME E NOME _____

Hai queste monete:



Vuoi comprare un quaderno che costa 40 eurocent.

Disegna DUE MODI DIVERSI di pagare con le monete che hai.

COGNOME E NOME _____

Hai queste monete:



Vuoi comprare un ghiacciolo che costa 60 eurocent.

Disegna DUE MODI DIVERSI di pagare con le monete che hai.

COGNOME E NOME _____

1) Scrivi i giorni che mancano sulla linea del tempo:

15		17	18	19		21	22	23		25	26
----	--	----	----	----	--	----	----	----	--	----	----

2) Scrivi i giorni che mancano sulla linea del tempo:

25	26			29		31
----	----	--	--	----	--	----

3) Scrivi i giorni che mancano sulla linea del tempo:

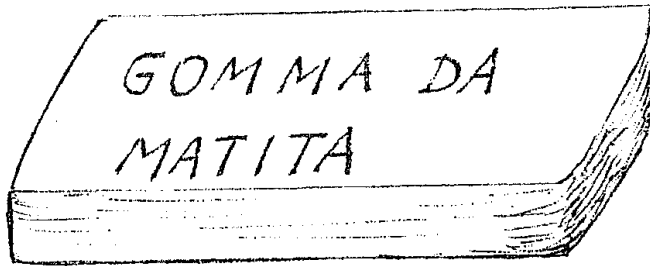

21	22	23	24	25	26	27	28	29
----	----	----	----	----	----	----	----	----

4) Che giorni della settimana sono il 24 e il 26 ?

GIO	VE	SA		LU		ME	GIO	VE	SA
21	22	23	24	25	26	27	28	29	30


COGNOME E NOME _____

Colora il disegno: la matita è gialla e la gomma è verde.



COGNOME E NOME _____

Nel cestino ci sono quattro caramelle :
completa il disegno.



COGNOME E NOME _____

Sull'albero ci sono molti fiori rossi e

Poche foglie verdi.

Sotto l'albero ci sono due bambine

che giocano.

Completa il disegno.

